

**ВСЕРОССИЙСКАЯ ПРОВЕРОЧНАЯ РАБОТА
ГЕОГРАФИЯ**

11 КЛАСС

Вариант 2

Инструкция по выполнению работы

Проверочная работа включает в себя 17 заданий. На выполнение работы по географии отводится 1 час 30 минут (90 минут).

Записывайте ответы на задания в отведённом для этого месте в работе. В случае записи неверного ответа зачеркните его и запишите рядом новый.

При выполнении заданий работы Вы можете использовать необходимые карты атласов.

При выполнении заданий Вы можете использовать черновик. Записи в черновике проверяться и оцениваться не будут.

Советуем выполнять задания в том порядке, в котором они даны. Для экономии времени пропускайте задание, которое не удаётся выполнить сразу, и переходите к следующему. Если после выполнения всей работы у Вас останется время, Вы сможете вернуться к пропущенным заданиям.

Баллы, полученные Вами за выполненные задания, суммируются. Постарайтесь выполнить как можно больше заданий и набрать наибольшее количество баллов.

Желаем успеха!

1

В России весь холодный период года с целью обеспечения комфортной температуры воздуха в жилых и производственных помещениях продолжается отопительный период. Отопление подаётся в дома тогда, когда устойчивая среднесуточная температура воздуха на улице меньше или равна $+8^{\circ}\text{C}$. Длительность отопительного периода неодинакова в различных российских городах. Запишите перечисленные города в порядке увеличения средней продолжительности отопительного периода, начиная с города с его наименьшей продолжительностью.

Уфа
Улан-Удэ
Брянск

Ответ: _____

2

Планируется освоение Верхне-Телекайского нефтегазоконденсатного месторождения в Анадырском районе Чукотского автономного округа, в 110 км к юго-западу от административного центра г. Анадырь.

Карты какого географического района России необходимо выбрать, чтобы найти информацию о географических условиях разработки Верхне-Телекайского месторождения?

Ответ: _____

3

Целлюлозно-бумажные комбинаты (ЦБК) относятся к предприятиям, оказывающим значительное влияние на окружающую среду.

В каких трёх из перечисленных регионов России работают крупные ЦБК? Запишите цифры, под которыми указаны эти регионы.

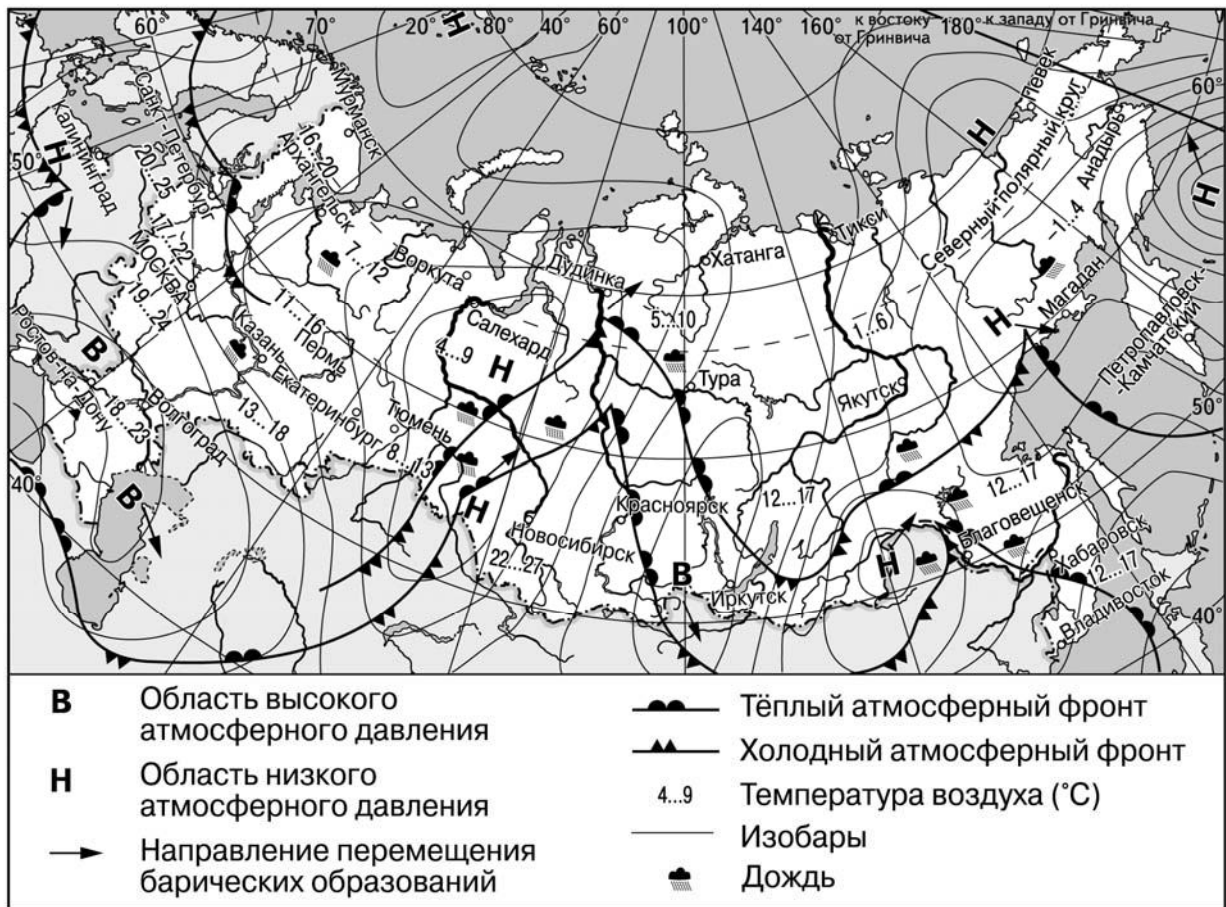
- 1) Архангельская область
- 2) Астраханская область
- 3) Омская область
- 4) Иркутская область
- 5) Красноярский край
- 6) Краснодарский край

Ответ:

--	--	--

Задания 4–6 выполняются с использованием приведённой ниже карты.

Карта прогноза погоды на 2 июня (на 15 часов московского времени)



4 С антициклонами летом обычно связана солнечная погода. Назовите один (любой) город в Европейской части России из числа показанных на карте, погоду в котором 2 июня будет определять антициклон.

Ответ: _____

5 Ольга из Архангельска прослушала прогноз погоды по радио: «Завтра, 3 июня, ожидается похолодание, пройдёт дождь, ветер с порывами до 12–15 м/с», но не услышала, для её ли города этот прогноз был составлен. С помощью карты определите, для какого из показанных на карте городов был составлен этот прогноз.

Ответ: _____

6

Прочитайте прогноз погоды на 3 июня для города Хабаровска: «3 июня в Хабаровске потеплеет, днём температура воздуха поднимется до +17 °С, будет облачно, местами пройдут небольшие дожди».

Объясните, почему в Хабаровске ожидается выпадение атмосферных осадков.

Ответ: _____

7

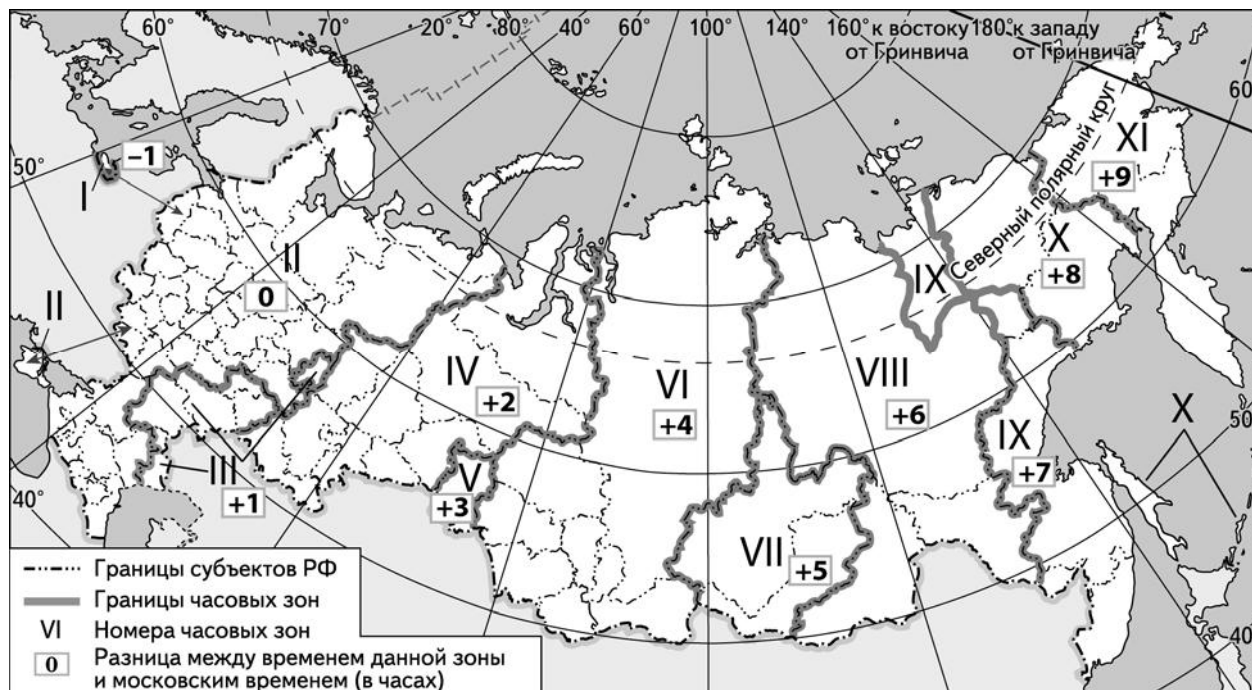
Потенциал российских регионов для развития туризма огромен. Каждый из них имеет рекреационные ресурсы, способные привлечь тысячи туристов из России и зарубежных стран. Определите субъект Российской Федерации по описанию его рекреационного потенциала.

«На побережье Белого моря и Онежского озера сохранились наскальные изображения – петроглифы, относящиеся к периоду неолита. Один из популярнейших объектов туризма – водопад Кивач, воды которого падают каскадами с небольших уступов высотой в 11 метров. К выдающимся памятникам русского деревянного зодчества региона относятся Успенская церковь в Кондопоге (XVIII в.) и комплекс деревянных сооружений Кижского погоста на острове Кижь в Онежском озере. Основу курортных ресурсов региона составляют минеральные воды и лечебные грязи. Железистые источники, обнаруженные близ Петрозаводска в XVIII веке, послужили базой для создания первого в России курорта – Марциальные Воды.»

Ответ: _____

8

С 10 по 26 мая 2019 г. в Словакии пройдёт чемпионат мира по хоккею. Прямая трансляция финала чемпионата состоится 26 мая в 21:15 по московскому времени. Используя карту, определите, в каких из перечисленных регионов трансляция начнётся после 0:00 часов 27 мая по местному времени этих регионов. Запишите цифры, под которыми они указаны.



- 1) Астраханская область
- 2) Пермский край
- 3) Томская область
- 4) Ханты-Мансийский АО – Югра
- 5) Иркутская область
- 6) Магаданская область

Ответ: _____.

9

Прочитайте приведённый ниже текст, в котором пропущен ряд слов. Выберите из предлагаемого списка слова, которые необходимо вставить на места пропусков, обозначенных буквами. Обратите внимание на то, что слов в списке больше, чем Вам потребуется для заполнения пропусков. Каждое слово может быть использовано только один раз. Запишите в текст номера выбранных слов.

Особенности населения Аргентины

Согласно статистическим данным, на 1 января 2019 г. в Аргентине проживало более 44 млн человек. Для страны характерен _____ (А) естественный прирост населения. В возрастной структуре населения доля лиц младше 15 лет _____ (Б) доли лиц старше 65 лет. Более 90% населения Аргентины проживает в городах, крупнейший из которых Буэнос-Айрес – столица страны. Более 90% верующего населения страны исповедует _____ (В).

Список слов:

- 1) отрицательный
- 2) христианство
- 3) меньше
- 4) положительный
- 5) ислам
- 6) больше

Запишите в таблицу под каждой буквой номер выбранного Вами слова.

Ответ:

А	Б	В

10

На уроке учащиеся анализировали статистические данные, приведённые ниже в таблице, в целях сравнения темпов роста объёмов ВВП в Индии и Таиланде в период с 2015 по 2017 г. Алексей указал, что только в Таиланде ежегодно происходило увеличение объёмов ВВП.

Динамика объёмов ВВП (в % к предыдущему году)

Страна	2015 г.	2016 г.	2017 г.
1) Индия	108,2	107,1	106,7
2) Таиланд	103,0	103,3	103,9

Правильный ли вывод сделал Алексей? Свой ответ обоснуйте.

Ответ: _____

11

Какие из следующих высказываний верны? Запишите цифры, под которыми указаны эти высказывания.

- 1) Уровень экономического развития страны зависит в первую очередь от её обеспеченности природными ресурсами.
- 2) При снижении рождаемости в стране в возрастной структуре её населения снижается доля пожилых людей.
- 3) На размещение предприятий целлюлозно-бумажной промышленности большое влияние оказывает обеспеченность территории водными ресурсами.
- 4) Мощные вулканические извержения могут заметно влиять на климат отдельных территорий и всей планеты в целом.
- 5) Плодородие почвы зависит от количества содержащегося в ней перегноя.

Ответ: _____.

12

От уровня экономического развития страны зависят многие особенности её населения и хозяйства. Установите соответствие между страной и характерной особенностью: к каждому элементу первого столбца подберите соответствующий элемент из второго столбца.

СТРАНА	ОСОБЕННОСТЬ
А) Франция Б) Гватемала В) Бурунди	1) низкая (менее 5%) доля лиц старше 65 лет в общей численности населения 2) низкая (менее 2%) доля сельского хозяйства в ВВП

Запишите в таблицу выбранные цифры под соответствующими буквами.

Ответ:

А	Б	В

13

В настоящее время к стратегически важным материалам стали относить руды таких металлов, как литий, кобальт и др. Учащиеся нашли в Интернете информацию о том, что по состоянию на 2017 г. первое место в мире по добыче литиевых руд занимала Австралия, разведанные запасы литиевых руд (в пересчёте на металл) в этой стране составляли 2 700 000 т, при этом показатель ресурсообеспеченности страны этими рудами составлял 144 года. Определите, сколько тонн литиевых руд (в пересчёте на металл) было добыто в Австралии в 2017 г.

Ответ: _____ тонн.

Задания 14–16 выполняются с использованием приведённого ниже текста.

VII Международный форум «Арктика: настоящее и будущее» проходил в Санкт-Петербурге с 4 по 6 декабря 2017 г. Основными темами форума стали создание в Арктике опорных зон развития, а также социально-экономическое развитие полярных территорий. Опорные зоны должны стать основным механизмом развития арктического региона РФ. Одним из приоритетных проектов в рамках формирования Ненецкой опорной зоны может стать строительство глубоководного незамерзающего порта Индига в районе одноимённого посёлка. В проекте формирования Ненецкой опорной зоны предусмотрены развитие добычи углеводородного сырья и судоходства по Северному морскому пути. В числе проектов, которые предполагается реализовать для формирования Ненецкой опорной зоны, строительство железнодорожной линии Сосногорск – Индига, а также реконструкция аэропортов в Нарьян-Маре и посёлке Андерма. Не исключена возможность промышленной кооперации Ненецкого автономного округа и соседней республики.

14

В тексте говорится о возможной промышленной кооперации Ненецкого автономного округа и соседней республики. Назовите республику в составе РФ, граничащую с Ненецким автономным округом.

Ответ: _____

15

Какими топливными полезными ископаемыми богат Ненецкий автономный округ и республика, граничащая с ним?

Ответ: _____

16


Какая особенность транспортно-географического положения Ненецкого автономного округа будет способствовать его развитию?

Ответ: _____

17

Более 10% территории России занимают болота. Можно сказать, что это одна из основных природных особенностей страны. Являются ли болота богатством, и имеет ли смысл осушение болот? Последние десятилетия болота подвергаются массовой атаке со стороны человека. Относительно целесообразности осушения болот существуют разные точки зрения. Одни специалисты указывают на экономическую целесообразность осушения болот, другие специалисты связывают с осушением болот негативные изменения в окружающей среде.

Выберите одну из упомянутых выше точек зрения и приведите два любых довода, подтверждающие её.



Ответ: _____
