

Система оценивания проверочной работы

Правильный ответ на каждое из заданий 2.1, 2.2, 5.1, 6.1, 7, 11, 13.1 оценивается 1 баллом.

Полный правильный ответ на каждое из заданий 2.3, 3, 4.1, 8.1, 9, 10.1 оценивается 2 баллами. Если в ответе допущена одна ошибка (в том числе написана лишняя цифра, или не написана одна необходимая цифра), выставляется 1 балл; если допущено две или более ошибки – 0 баллов.

Номер задания	Правильный ответ
3	136
7	4
9	3468
11	1

1

Как называют научный метод, которым пользуется изображённый на фотографии учёный-зоолог?

- 1) метод моделирования
- 2) экспериментальный метод
- 3) сравнительный метод
- 4) метод измерения



Ответ.

Объясните свой ответ, воспользовавшись знанием научных методов биологии.

Ответ. _____

Содержание верного ответа и указания к оцениванию (допускаются иные формулировки ответа, не искажающие его смысла)	Баллы
Правильный ответ должен содержать следующие <u>элементы</u> : 1) указание <u>научного метода</u> : 4 ИЛИ метод измерения; 2) <u>объяснение</u> , например: метод измерения позволяет получить количественные характеристики объекта (животного) с помощью измерительных приборов	
Правильно указан научный метод, дано объяснение	2
Правильно указан научный метод, объяснение не дано / дано неправильно	1
Название научного метода не указано / указано неправильно независимо от наличия объяснения. ИЛИ Ответ неправильный	0
<i>Максимальный балл</i>	2

2

Рассмотрите изображённое на фотографии животное и опишите его, выполнив задания.

2.1. Укажите тип симметрии животного.

Ответ. _____

2.2. Укажите среду обитания взрослого животного вне периода размножения.

Ответ. _____



2.3. Установите последовательность расположения систематических групп изображённого животного, начиная с самой крупной. Используйте слова и словосочетания из предложенного перечня. Запишите в таблицу **цифры**, под которыми они указаны.

Список слов и словосочетаний:

- 1) Хордовые
- 2) Бесхвостые
- 3) Земноводные
- 4) Остромордая лягушка
- 5) Животные

Ответ.

Царство	Тип	Класс	Отряд	Вид

2.4. Укажите одно из значений, которое имеют остромордые лягушки в природе.

Ответ. _____

2.1	двусторонне-симметричное животное
2.2	наземно-воздушная
2.3	51324

2.4

Содержание верного ответа и указания к оцениванию (допускаются иные формулировки ответа, не искажающие его смысла)	Баллы
В правильном ответе должно быть указано <u>значение</u> , например: остромордая лягушка является звеном цепи питания. ИЛИ Остромордая лягушка регулирует численность многих беспозвоночных животных, которыми питается. ИЛИ Остромордая лягушка является пищей для млекопитающих, птиц, пресмыкающихся	1
Правильно указано значение остромордой лягушки в природе	1
Ответ неправильный	0
<i>Максимальный балл</i>	<i>1</i>

4

4.1. Определите тип развития животных, приведённых в перечне. Запишите **цифры**, под которыми указаны животные, в соответствующую ячейку таблицы.

Список животных:

- 1) медведка обыкновенная
- 2) паук крестовик
- 3) лягушка озёрная
- 4) аист чёрный
- 5) снежный барс
- 6) большой прудовик

Ответ.	Развитие с метаморфозом	Развитие прямое

4.2. Какой тип развития характерен для волка обыкновенного, изображённого на рисунке 1?

Ответ. _____

Обоснуйте свой ответ. _____



Рисунок 1

4.1	развитие с метаморфозом– 136 развитие прямое– 245 (в любой последовательности)
-----	--

4.2

Содержание верного ответа и указания к оцениванию (допускаются иные формулировки ответа, не искажающие его смысла)	Баллы
Правильный ответ должен содержать следующие <u>элементы</u> : 1) <u>тип развития</u> животного: прямое; 2) <u>обоснование</u> , например: развитие волка происходит без стадии личинки. ИЛИ У волка развитие происходит без превращения (метаморфоза). ИЛИ У волка рождается потомство, похожее на взрослое животное	
Правильно указан тип развития, представлено обоснование	2
Правильно указан тип развития, обоснование не представлено / представлено неправильно	1
Тип развития не указан / указан неправильно независимо от наличия обоснования. ИЛИ Ответ неправильный	0
	<i>Максимальный балл</i> 2

5 Рассмотрите рисунок 2, на котором представлен цикл развития головной вши, и ответьте на вопросы.

5.1. Какой цифрой обозначена на рисунке самка головной вши?

Ответ.

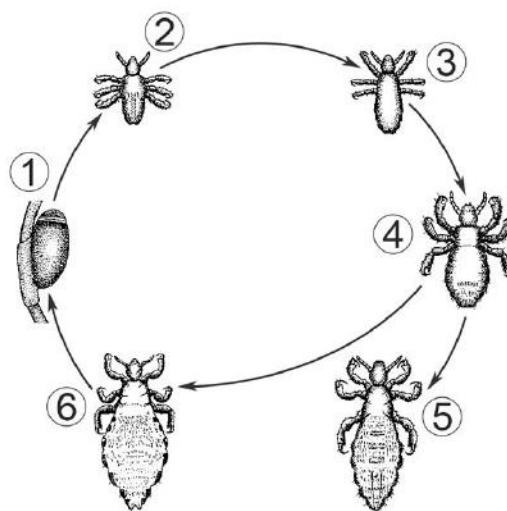


Рисунок 2

5.2. Какой вред здоровью человека может причинить головная вошь? Укажите не менее двух негативных воздействий.

Ответ. _____

5.1	6
-----	---

5.2

Содержание верного ответа и указания к оцениванию (допускаются иные формулировки ответа, не искажающие его смысла)	Баллы
Правильный ответ должен содержать <u>не менее двух негативных воздействий</u> головной вши на здоровье человека, например: 1) кожный зуд; 2) расчёсы (повреждения кожи); 3) передача человеку инфекционных заболеваний (возвратного тифа). Элементы ответа могут быть приведены в иных, близких по смыслу формулировках	
Правильно указаны два любых негативных воздействия	2
Правильно указано только одно негативное воздействие	1
Ответ неправильный	0
<i>Максимальный балл</i>	2

6

В приведённой ниже таблице между позициями первого и второго столбцов имеется взаимосвязь.

Стадия развития насекомого	Тип ротового аппарата
взрослая особь слепня	режуще-сосущий
личинка жука короеда	...

6.1. Какое понятие следует вписать на место пропуска в этой таблице?

- 1) грызущий
- 2) колюще-сосущий
- 3) лижущий
- 4) грызуще-лижущий

Ответ:

6.2. Какой тип развития характерен для слепня и короеда?

Ответ: _____

6.1	1
-----	---

6.2

Содержание верного ответа и указания к оцениванию (допускаются иные формулировки ответа, не искажающие его смысла)	Баллы
Правильный ответ должен содержать <u>указание типа развития</u> , например: с полным превращением / с полным метаморфозом	
Правильно указан тип развития	1
Ответ неправильный	0
<i>Максимальный балл</i>	<i>1</i>

8

8.1. Установите соответствие между характеристиками и типами беспозвоночных: к каждой позиции, данной в первом столбце, подберите соответствующую позицию из второго столбца.

ХАРАКТЕРИСТИКИ

ТИПЫ БЕСПОЗВОНОЧНЫХ

- А) полость тела отсутствует
 Б) мантия
 В) нервная система лестничного типа
 Г) наличие кровеносной системы
 Д) сквозной кишечник
 Е) наличие органов дыхания

- 1) Моллюски
 2) Плоские черви

Запишите в таблицу выбранные цифры под соответствующими буквами.

Ответ:

А	Б	В	Г	Д	Е

8.2. Приведите по три примера животных, относящихся к указанным типам. Запишите их названия в таблицу.

Моллюски	Плоские черви

8.1	212111
-----	--------

8.2

Содержание верного ответа и указания к оцениванию (допускаются иные формулировки ответа, не искажающие его смысла)	Баллы
Правильный ответ должен содержать <u>по три примера</u> беспозвоночных животных, относящихся к типам Моллюски и Плоские черви	
Правильно приведено по три примера беспозвоночных животных в каждом типе	2
Правильно приведено два-три примера животных, относящихся к одному типу, и два примера животных, относящихся к другому типу	1
Все комбинации элементов, не соответствующие указаниям по выставлению 2 и 1 балла. ИЛИ Ответ неправильный	0
	<i>Максимальный балл</i> 2

10

10.1. Если у животных встречаются разнообразные конечности, изображённые на рисунке 4, то для животных этой группы, вероятнее всего, будут характерны

- 1) одна пара усиков
- 2) лёгочные мешки
- 3) мантийная полость
- 4) замкнутая кровеносная система
- 5) трахеи

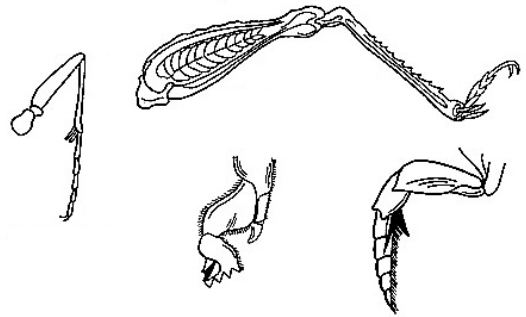


Рисунок 4

Запишите в ответе **цифры**, под которыми указаны выбранные характеристики.

Ответ: _____

10.2. В описании животных зоологи часто употребляют термин «мантийная полость». Что понимают под этим термином?

Ответ: _____

10.1	15 (в любой последовательности)
------	------------------------------------

10.2

Содержание верного ответа и указания к оцениванию (допускаются иные формулировки ответа, не искажающие его смысла)	Баллы
Правильный ответ должен содержать <u>объяснение</u> термина, например: мантийная полость – это полость, образованная мантией и телом у моллюсков. Объяснение термина может быть приведено в иной, близкой по смыслу формулировке	
Правильно дано объяснение термина	1
Ответ неправильный	0
<i>Максимальный балл</i>	<i>1</i>

12

Изучите данные приведённой ниже таблицы и ответьте на вопросы.

Таблица

Развитие земноводных

Вид земноводных	Продолжительность личиночного периода, сутки	Длина, мм		Относительные размеры головастика, %
		головастика	взрослой самки	
Зелёная жаба	40–45	32–43	70	53
Травяная лягушка	50–60	35–45	72	55
Остромордая лягушка	60–65	35–40	55	67
Прудовая лягушка	70–75	60–73	65	100
Озёрная лягушка	80–90	70–90	98	83

У какого вида земноводных, из перечисленных в таблице, самый короткий личиночный период?

Ответ. _____

У какого вида земноводных, перечисленных в таблице, самые длинные головастики?

Ответ. _____

К какому отряду относят земноводных, перечисленных в таблице?

Ответ. _____





Содержание верного ответа и указания по оцениванию	Баллы
Правильный ответ должен содержать <u>три элемента</u> : 1) зелёная жаба; 2) озёрная лягушка; 3) бесхвостые. Элементы ответа могут быть приведены в иных, близких по смыслу формулировках	
Правильно указаны три элемента	3
Правильно указаны только два любых элемента	2
Правильно указан только один любой элемент	1
Ответ неправильный	0
<i>Максимальный балл</i>	<i>3</i>

13) Рассмотрите фотографию собаки породы **басенджи** и выполните задания.







13.1. Выберите характеристики, соответствующие внешнему строению собаки, по следующему плану: окрас шерсти, форма ушей, форма хвоста.










А. Окрас

1) однотонный 	2) пятнистый 	3) чепрачный 	4) подпалый 
---	--	--	---

Б. Форма ушей

1) стоячие 	2) полустоячие 	3) развешенные 	4) висящие 	5) сближенные 	6) сильно укороченные 
---	---	---	--	--	--

В. Форма хвоста

1) саблевидная 	2) кольцом 	3) поленом 	4) прутом 	5) крючком 	6) серпом 	7) купированный 
---	---	---	--	--	--	--

Запишите в таблицу выбранные цифры под соответствующими буквами.



Ответ.

А	Б	В

13.2. Пётр решил выяснить, соответствует ли изображённая на фотографии собака породы басенджи стандартам для использования её в целях чистопородного размножения в клубе собаководства. Помогите Петру решить эту задачу, воспользовавшись фрагментом описания стандарта данной породы.

Стандарт породы басенджи (фрагмент)

1. Окрас: пятнистый.
2. Форма ушей: стоячие.
3. Форма хвоста: кольцом.

Сделайте заключение о соответствии изображённой на фотографии собаки указанным стандартам породы. Оцените возможность использования собаки этой породы для чистопородного размножения в клубе собаководства.

Ответ. _____

13.1	232
------	-----

13.2

Содержание верного ответа и указания к оцениванию (допускаются иные формулировки ответа, не искажающие его смысла)	Баллы
Правильный ответ должен содержать следующие <u>элементы</u> : 1) <u>заключение</u> , например: собака, изображённая на фотографии, соответствует стандарту породы по окрасу шерсти, форме хвоста, но не соответствует стандарту породы по форме ушей; 2) <u>оценка</u> , например: данная собака не подходит для чистопородного размножения в клубе собаководства	
Правильно сделано заключение, дана оценка	2
Правильно сделано заключение, оценка не дана / дана неправильно. ИЛИ Правильно дана только оценка	1
Ответ неправильный	0
<i>Максимальный балл</i>	2

Система оценивания выполнения всей работы

Максимальный балл за выполнение работы – **35**.

Рекомендации по переводу первичных баллов в отметки по пятибалльной шкале

Отметка по пятибалльной шкале	«2»	«3»	«4»	«5»
Первичные баллы	0–12	13–20	21–28	29–35