

### Система оценивания проверочной работы

Полный правильный ответ на каждое из заданий 1.1, 2.2, 3.2, 4.1, 4.2 и 5.2 оценивается 1 баллом. Если в ответе допущена хотя бы одна ошибка (один из элементов ответа записан неправильно или не записан), выставляется 0 баллов.

Полный правильный ответ на каждое из заданий 5.1, 7 и 8.2 оценивается 2 баллами. Если в ответе допущена одна ошибка или перепутаны местами две цифры в ответах на задания 5.1 и 8.2, выставляется 1 балл; если допущено две или более ошибки – 0 баллов.

Номер задания	Правильный ответ
7	246,264,426,462,642,624

1 Рассмотрите карту мира. На ней буквами А и Б отмечены два океана.

1.1. Запишите названия океанов в соответствующее поле.

Название океана (А) :

Название океана (Б) :



\_\_\_\_\_

\_\_\_\_\_

1.2. С каким из названных Вами океанов связаны открытия путешественников и исследователей, изображённых на портретах? Укажите название океана, по которому проходили маршруты их экспедиций.



*Фернан Магеллан*



*Христофор Колумб*

Ответ: \_\_\_\_\_



Подпишите на карте материка, берега которых омывают воды указанного Вами океана.



<b>1.1</b>	А – Северный Ледовитый Б – Атлантический
------------	---

**1.2.**

Содержание верного ответа и указания по оцениванию	Баллы
Правильный ответ должен содержать следующие <u>элементы</u> : 1) <u>название океана</u> : Атлантический; 2) <u>подписи материков на карте</u> : Евразия, Африка, Северная Америка, Южная Америка, Антарктида	
Правильно указано название океана, подписаны пять материков	2
Правильно указано название океана, подписаны два–четыре материка	1
Правильно указано название океана, подписан только один материк. ИЛИ Правильно указано только название океана, ни один материк не подписан / не подписан правильно. ИЛИ Название океана не указано / указано неправильно независимо от наличия/отсутствия подписи материков. ИЛИ Ответ неправильный	0
<i>Максимальный балл</i>	2

2

2.1. Поставьте точки на карте по приведённым ниже координатам. Обозначьте эти точки соответственно цифрами 1 и 2.



Точка 1 –  $65^{\circ}$  с. ш.  $15^{\circ}$  в. д.



Точка 2 –  $23^{\circ}$  с. ш.  $15^{\circ}$  в. д.

В каком направлении от точки 1 расположена точка 2?



Ответ. \_\_\_\_\_

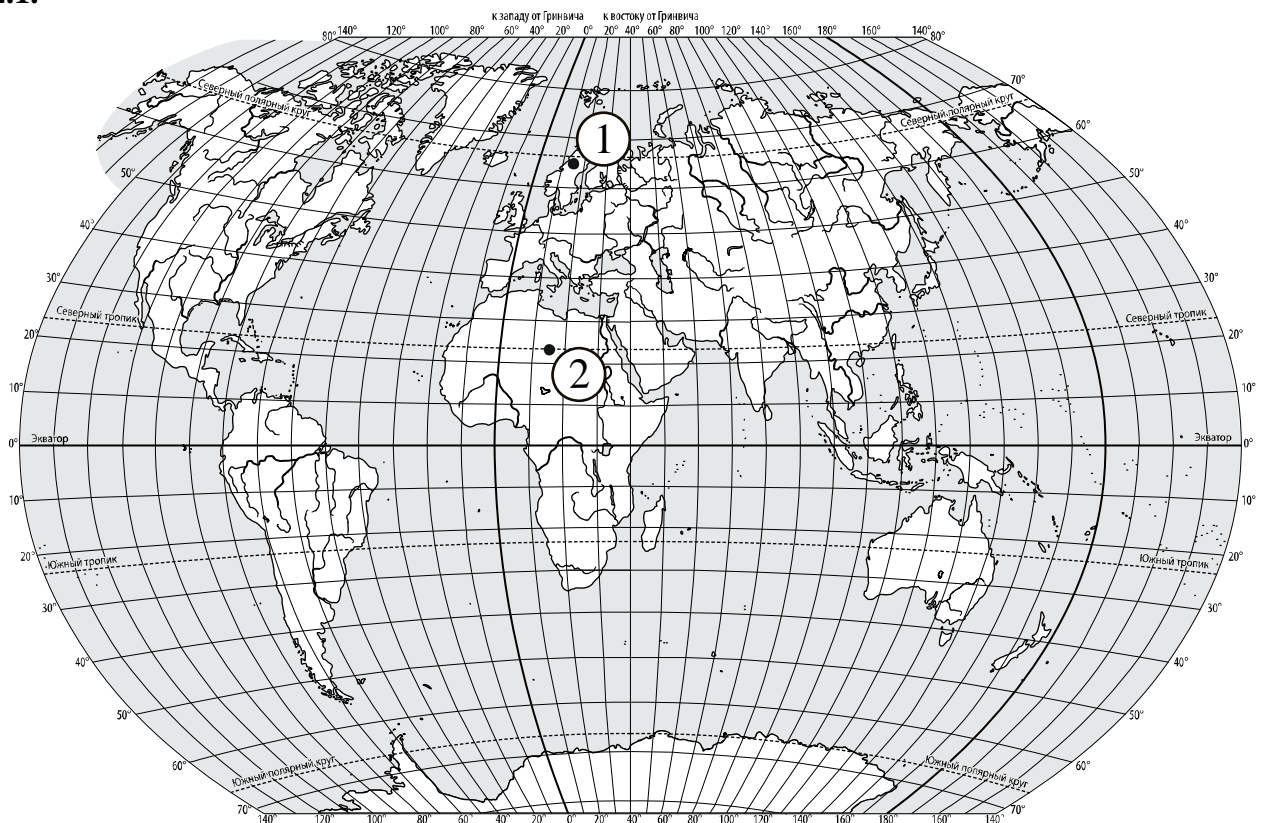
2.2. Точка 2 расположена на территории крупного географического объекта. Прочитайте текст, рассмотрите фотографию и укажите название этого географического объекта.

Самая большая по площади пустыня нашей планеты. Она расположена в северной части Африки и охватывает территории более 10 стран, в том числе Египта, Алжира, Туниса. Пески занимают примерно четверть площади пустыни, на остальной её части преобладает каменистый грунт. Пустыню пересекает одна из самых крупных рек мира – Нил. В долине Нила и оазисах встречаются плодородные земли. Сухие русла небольших рек – вадии заполняются водой лишь на короткое время после редких дождей.



Ответ. \_\_\_\_\_

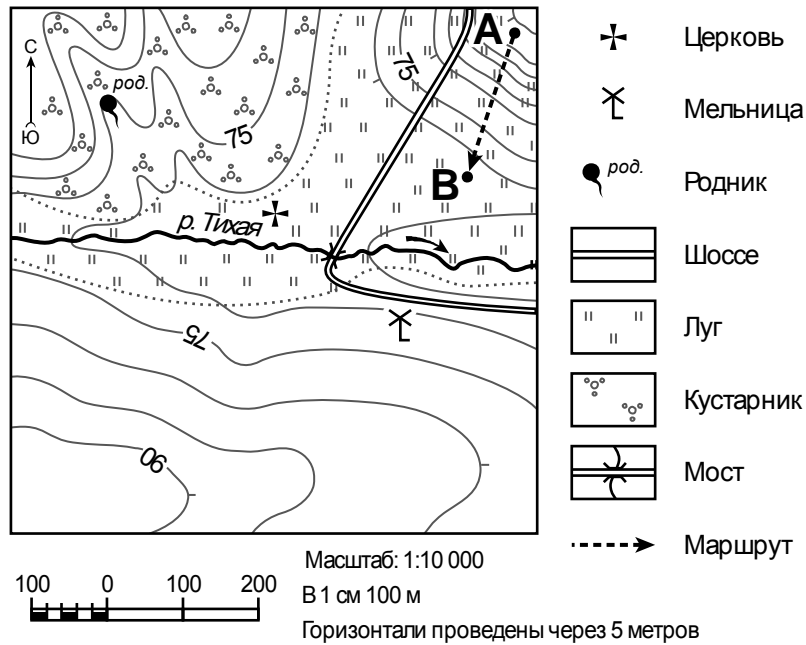
2.1.



Содержание верного ответа, критерии и указания по оцениванию		Баллы
<b>К1</b>	<b>Отметка двух точек на карте</b>	<b>1</b>
	Две точки на карте отмечены правильно. <i>Допускается погрешность ±1°</i>	1
	На карте правильно отмечена только одна точка. ИЛИ Точки не отмечены / отмечены неправильно	0
	<b>Если по критерию К1 выставлен 0 баллов, то по критерию К2 выставляется 0 баллов</b>	
<b>К2</b>	<b>Указание направления</b>	<b>1</b>
	Направление указано правильно: в южном направлении / на юг	1
	Направление не указано / указано неправильно	0
<i>Максимальный балл</i>		<b>2</b>

<b>2.2</b>	пустыня Сахара
------------	----------------

3



3.1. На каком берегу реки Тихой находится родник?

Ответ. \_\_\_\_\_

В каком направлении от родника расположена церковь?

Ответ. \_\_\_\_\_

3.2. Какова протяжённость проложенного на карте маршрута А–В? Для выполнения задания используйте линейку. Расстояние измеряйте по центрам точек.

Ответ. \_\_\_\_\_

3.3. Какой из изображённых на фотографиях объектов может быть сооружён на территории, по которой проходит маршрут А – В? Запишите в ответе **номер** фотографии. Обоснуйте свой ответ.



1 – поле для гольфа



2 – трасса для тюбинга

Ответ. Объект: \_\_\_\_\_

\_\_\_\_\_

\_\_\_\_\_

## 3.1.

Содержание верного ответа и указания по оцениванию	Баллы
Правильный ответ должен содержать <u>ответы на два вопроса</u> : 1) на левом берегу; 2) в юго-восточном направлении / на юго-восток	
Правильно даны ответы на два вопроса	2
Правильно дан ответ только на один любой вопрос	1
Ответы на вопросы не даны / даны неправильно	0
<i>Максимальный балл</i>	2

<b>3.2</b>	200 метров (допускается погрешность $\pm 10$ метров)
------------	---


## 3.3.

Содержание верного ответа и указания по оцениванию	Баллы
Правильный ответ должен содержать следующие <u>элементы</u> : 1) <u>указание объекта</u> : 2 – трасса для тюбинга; 2) <u>объяснение</u> , например: Маршрут проложен по склону с достаточным уклоном для катания на тюбинге, на склоне нет никаких объектов, которые могут помешать спуску, а для сооружения поля для гольфа необходим ровный участок. <i>Объяснение может быть приведено в иной, близкой по смыслу формулировке</i>	
Правильно указан объект, дано объяснение	2
Правильно указан только объект	1
Объект указан неправильно независимо от наличия/отсутствия объяснения. ИЛИ Ответ неправильный	0
<i>Максимальный балл</i>	2

4


4.1. Разница во времени между городами Норильском и Самарой составляет **–3 часа**. На рисунках представлены показания часов в этих городах в тот момент, когда в Норильске **3 часа дня**. Запишите под каждым рисунком, как отображается то же самое время на электронных часах в этих городах.

**НОРИЛЬСК**



\_\_\_\_\_

**САМАРА**



\_\_\_\_\_

4.2. Фёдор живёт в Норильске. Урок по какому предмету у Фёдора в школе в указанное Вами время? Используйте для ответа приведённое расписание уроков.

Ответ. \_\_\_\_\_

4.3. Урок по какому предмету в это же время у его сверстницы Ирины, которая живёт в Самаре, если у неё такое же расписание уроков, что и у Фёдора?

Ответ. \_\_\_\_\_

Обоснуйте свой ответ и укажите, чем обусловлена разница во времени в разных частях Земли.

Ответ. \_\_\_\_\_

<b>РАСПИСАНИЕ УРОКОВ</b>		
№ урока	Время	Предмет
<b>1 смена</b>		
1	8.30 – 9.15	Русский язык
2	9.25 – 10.10	География
3	10.30 – 11.15	Математика
4	11.35 – 12.20	Физкультура
5	12.30 – 13.15	Иностр. язык
6	13.30 – 14.10	Классный час
<b>2 смена</b>		
1	13.30 – 14.10	Русский язык
2	14.30 – 15.15	Математика
3	15.25 – 16.10	Биология
4	16.20 – 17.05	Литература
5	17.15 – 18.00	История

<b>4.1</b>	15.00; 12.00;
<b>4.2</b>	У Фёдора урок по математике (2 смена)

**4.3**

<b>Содержание верного ответа и указания по оцениванию</b>	<b>Баллы</b>
<p>Правильный ответ должен содержать следующие <u>элементы</u>:</p> <p>1) <u>ответ на вопрос</u>: у Ирины урок по физкультуре (1 смена);</p> <p>2) <u>обоснование</u>, например: когда в Норильске 15 часов, в Самаре 12 часов, поэтому, когда у Фёдора урок по математике (2 смена), у Ирины урок по физкультуре (1 смена);</p> <p>3) <u>указание того, чем обусловлена разница во времени</u>, например: разница во времени обусловлена вращением Земли вокруг своей оси.  <i>Обоснование и/или указание может быть приведено в иной, близкой по смыслу формулировке</i></p>	
Правильно дан ответ на вопрос, представлены обоснование и указание	3
Правильно даны ответ на вопрос и обоснование, указание не дано / дано неправильно. ИЛИ Правильно даны ответ на вопрос и указание, обоснование не дано / дано неправильно	2
Правильно дан только ответ на вопрос.	1
Ответ на вопрос не дан / дан неправильно независимо от наличия/отсутствия других элементов ответа. ИЛИ Ответ неправильный	0
<i>Максимальный балл</i>	3



5

5.1. Установите соответствие между географическими особенностями и природными зонами, для которых они характерны: для этого к каждой позиции первого столбца подберите соответствующую позицию из второго столбца.

**ГЕОГРАФИЧЕСКИЕ ОСОБЕННОСТИ**

- А) прохладная влажная зима и жаркое сухое лето
- Б) распространение на территории островов в Северном Ледовитом океане
- В) преобладание коричневых почв
- Г) произрастание растений с плотными листьями, покрытыми восковым налётом
- Д) долгая суровая зима и короткое холодное лето
- Е) птичьи базары

**ПРИРОДНЫЕ ЗОНЫ**

- 1) жестколистные леса и кустарники
- 2) арктическая пустыня

Запишите в таблицу выбранные цифры под соответствующими буквами.



Ответ:

А	Б	В	Г	Д	Е

5.2. Определите, в какой из указанных природных зон могла быть сделана каждая фотография. Подпишите названия природных зон.



А – \_\_\_\_\_

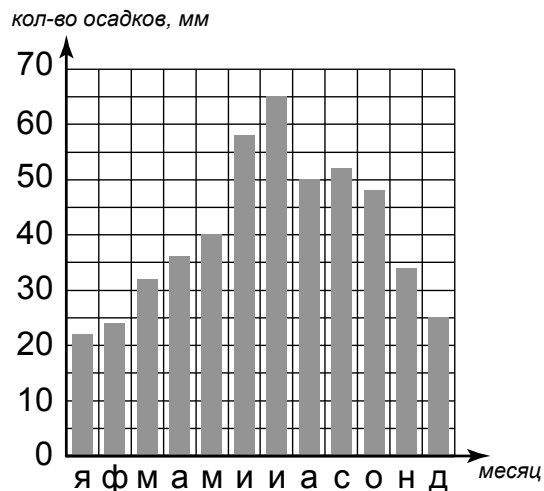
Б – \_\_\_\_\_



5.1	121122
5.2	А – жестколистные леса и кустарники Б – арктическая пустыня

6

На метеорологической станции города N в течение года наблюдали за количеством осадков. По результатам наблюдений метеорологи построили диаграмму выпадения осадков по месяцам. Рассмотрите диаграмму выпадения осадков и ответьте на вопросы.



6.1. В каком месяце выпало больше всего осадков?

Ответ. \_\_\_\_\_

На какие три месяца приходилось наименьшее количество осадков?

Ответ. \_\_\_\_\_

6.2. На каком рисунке знаками отображена погода в тот день, когда выпал град? Укажите букву, которой обозначен этот рисунок. Составьте описание погоды в этот день.

А					+22 °С	82%
Б					+18 °С	67%
В					+19 °С	80%

Ответ. Рисунок: \_\_\_\_\_

---



---



---



---

**6.1.**

<b>Содержание верного ответа и указания по оцениванию</b>	<b>Баллы</b>
Правильный ответ должен содержать <u>ответы на два вопроса</u> : 1) в июле; 2) январь, февраль, декабрь	
Правильно даны ответы на два вопроса	2
Правильно дан ответ только на один любой вопрос	1
Ответы на вопросы не даны / ответы на два вопроса даны неправильно	0
<i>Максимальный балл</i>	2

**6.2.**

	<b>Содержание верного ответа, критерии и указания по оцениванию</b>	<b>Баллы</b>
<b>K1</b>	<b>Указание рисунка</b>	<b>1</b>
	Правильно указан рисунок: А	1
	Рисунок не указан / указан неправильно	0
	<i>Если по критерию K1 выставлен 0 баллов, то по критерию K2 выставляется 0 баллов</i>	
<b>K2</b>	<b>Описание погоды</b>	<b>2</b>
	Правильно представлено описание погоды с учётом всех показателей, отображённых на рисунке знаками, например: в этот день была переменная облачность, шёл дождь, выпал град, дул западный ветер, температура воздуха была плюс 22 градуса, влажность воздуха – 82%. Описание может быть приведено в иной, близкой по смыслу формулировке	2
	При описании погоды с учётом показателей, отображённых на рисунке знаками, допущена одна ошибка / не учтён любой один из показателей	1
	В описании погоды допущено две или более ошибки. ИЛИ В описании погоды не учтены два или более показателя. ИЛИ Описание погоды не представлено	0
	<i>Максимальный балл</i>	3

8

8.1. Используя приведённую ниже таблицу, выполните задания.

**Численность и показатели рождаемости и смертности населения, 2016 г.**

№	Страна	Численность населения, млн человек	Показатели рождаемости и смертности, на 1000 жителей	
			рождаемость	смертность
1	США	325	12	8
2	Бразилия	208	14	6
3	Норвегия	5	12	8
4	Лаос	4	23	7

Расположите страны в порядке **увеличения** численности населения, начиная со страны с самой маленькой численностью. Запишите в ответе последовательность порядковых номеров этих стран.

Ответ. \_\_\_\_\_

В какой стране показатель рождаемости наибольший? Запишите в ответе название страны.

Ответ. \_\_\_\_\_

В каких странах показатели смертности одинаковы? Запишите в ответе названия стран.

Ответ. \_\_\_\_\_

8.2. Фотографии представленные ниже, сделаны в странах, указанных в таблице. Запишите под каждой фотографией название соответствующей **страны**.



А – \_\_\_\_\_



Б – \_\_\_\_\_



В – \_\_\_\_\_



Г – \_\_\_\_\_

## 8.1

Содержание верного ответа и указания по оцениванию	Баллы
Правильный ответ должен содержать следующие <u>элементы</u> : 1) <u>последовательность номеров стран</u> : 4321; 2) <u>ответ на первый вопрос</u> : в Лаосе; 3) <u>ответ на второй вопрос</u> : в США и Норвегии	
Правильно указана последовательность номеров стран и даны ответы на два вопроса	2
Правильно указана последовательность номеров стран и дан ответ на один любой вопрос. ИЛИ Правильно даны только ответы на два вопроса	1
Правильно указана только последовательность номеров стран. ИЛИ Правильно дан ответ только на один любой вопрос. ИЛИ Ответ неправильный	0
<i>Максимальный балл</i>	2

<b>8.2</b>	А – Норвегия Б – США В – Бразилия Г – Лаос
------------	---

9

Рассмотрите фотографию с изображением опасного явления природы. Запишите его название.

Ответ. Природное явление – \_\_\_\_\_

Составьте краткое описание этого природного явления (объёмом до пяти предложений). Поясните, чем опасно это явление для людей.

Ответ. \_\_\_\_\_



Содержание верного ответа и указания к оцениванию		Баллы
<b>К1</b>	<b>Указание опасного явления природы</b>	<b>1</b>
	Правильно определено опасное явление природы: <u>извержение вулкана</u> . <i>При оценивании как правильный ответ засчитывается любое допустимое название данного явления</i>	1
	Опасное явление природы не определено / определено неправильно	0
	<i>Если по критерию К1 выставлен 0 баллов, то по всем остальным позициям оценивания выставляется 0 баллов</i>	
<b>К2</b>	<b>Описание этого природного явления</b> <i>При оценивании в качестве правильного может быть принято описание природного явления в любом объёме</i>	<b>1</b>
	Описание содержит основные сведения о природном явлении. Фактических ошибок нет	1
	В описании допущены фактические ошибки. ИЛИ Приведены рассуждения общего характера, не содержащие сведений о природном явлении. ИЛИ Описание не представлено	0
<b>К3</b>	<b>Пояснение, чем опасно это явление для людей</b>	<b>1</b>
	Правильно пояснено, чем опасно это явление для людей	1
	Пояснение о том, чем опасно это явление для людей, отсутствует. ИЛИ Ответ неправильный	0
<i>Максимальный балл</i>		<b>3</b>

10

10.1. Запишите название региона: республики, или области, или края, или автономного округа или города федерального значения, в котором Вы живёте.

Ответ: \_\_\_\_\_

Как называется главный город Вашего региона? / Как называется населённый пункт / округ / муниципальный район города, в котором Вы живёте / расположена Ваша школа?

Ответ: \_\_\_\_\_

10.2. Какие источники загрязнения природы есть на территории Вашего региона? Опишите воздействие одного из этих источников загрязнения на природу.

Ответ: \_\_\_\_\_

\_\_\_\_\_

\_\_\_\_\_

\_\_\_\_\_

\_\_\_\_\_

\_\_\_\_\_

\_\_\_\_\_

\_\_\_\_\_

\_\_\_\_\_

**10.1**

<b>Указания к оцениванию</b>		<b>Баллы</b>
Правильно указаны название региона и его главный город / населённый пункт / округ / муниципальный район города		1
Правильно указано только название региона. ИЛИ Правильно указан только главный город региона / населённый пункт / округ / муниципальный район города. ИЛИ Ответ неправильный		0
<i>Максимальный балл</i>		<i>1</i>

**10.2**

<b>Критерии и указания к оцениванию</b>		<b>Баллы</b>
<b>K1</b>	<b>Указание источников загрязнения природы на территории региона</b>	<b>1</b>
	Правильно указаны источники загрязнения природы на территории региона <i>При оценивании как правильный ответ засчитывается указание любого количества источников (одного и более)</i>	1
	Источники загрязнения природы на территории региона не указаны / указаны неправильно	0
	<i>Если по критерию K1 выставлен 0 баллов, то по критерию K2 выставляется 0 баллов</i>	
<b>K2</b>	<b>Описание воздействия источника загрязнения на природу</b>	<b>2</b>
	Представлено описание воздействия источника загрязнения на природу. Фактических ошибок нет	2
	Представлено описание воздействия источника загрязнения на природу. Допущено не более двух фактических ошибок	1
	Приведены сведения, не соответствующие требованию задания	0
<i>Максимальный балл</i>		<i>3</i>

**Система оценивания выполнения всей работы**

Максимальный балл за выполнение работы – **37**.

*Рекомендации по переводу первичных баллов в отметки по пятибалльной шкале*

<b>Отметка по пятибалльной шкале</b>	<b>«2»</b>	<b>«3»</b>	<b>«4»</b>	<b>«5»</b>
Первичные баллы	0–9	10–21	22–30	31–37