

Система оценивания проверочной работы

Полный правильный ответ на каждое из заданий 1.1, 2.2, 3.2, 4.1, 4.2 и 5.2 оценивается 1 баллом. Если в ответе допущена хотя бы одна ошибка (один из элементов ответа записан неправильно или не записан), выставляется 0 баллов.

Полный правильный ответ на каждое из заданий 5.1, 7 и 8.2 оценивается 2 баллами. Если в ответе допущена одна ошибка или перепутаны местами две цифры в ответах на задания 5.1 и 8.2, выставляется 1 балл; если допущено две или более ошибки – 0 баллов.

Номер задания	Правильный ответ
7	235;253;325;352;532;523

1 Рассмотрите карту мира. На ней буквами А и Б отмечены два материка.

1.1. Запишите названия материков в соответствующее поле.

Название материка (А) :


Название материка (Б) :



1.2. С каким из названных Вами материков связаны открытия путешественников и исследователей, изображённых на портретах? Укажите название материка.



Абель Тасман



Джеймс Кук

Ответ. _____



Подпишите на карте океаны, омывающие берега указанного Вами материка.



1.1	А – Африка Б – Австралия
------------	-----------------------------

1.2.

Содержание верного ответа и указания по оцениванию	Баллы
Правильный ответ должен содержать следующие <u>элементы</u> : 1) <u>название материка</u> : Австралия; 2) <u>подписи океанов на карте</u> : Индийский, Тихий	
Правильно указано название материка, подписаны два океана	2
Правильно указано название материка, подписан только один океан	1
Правильно указано только название материка, ни один океан не подписан / не подписан правильно. ИЛИ Название материка не указано / указано неправильно независимо от наличия/отсутствия подписей океанов	0
<i>Максимальный балл</i>	2

2

2.1. Поставьте точки на карте по приведённым ниже координатам. Обозначьте эти точки соответственно цифрами 1 и 2.



Точка 1 – 60° ю. ш. 70° з. д.

Точка 2 – 55° с. ш. 70° з. д.

В каком направлении от точки 1 расположена точка 2?

Ответ. _____

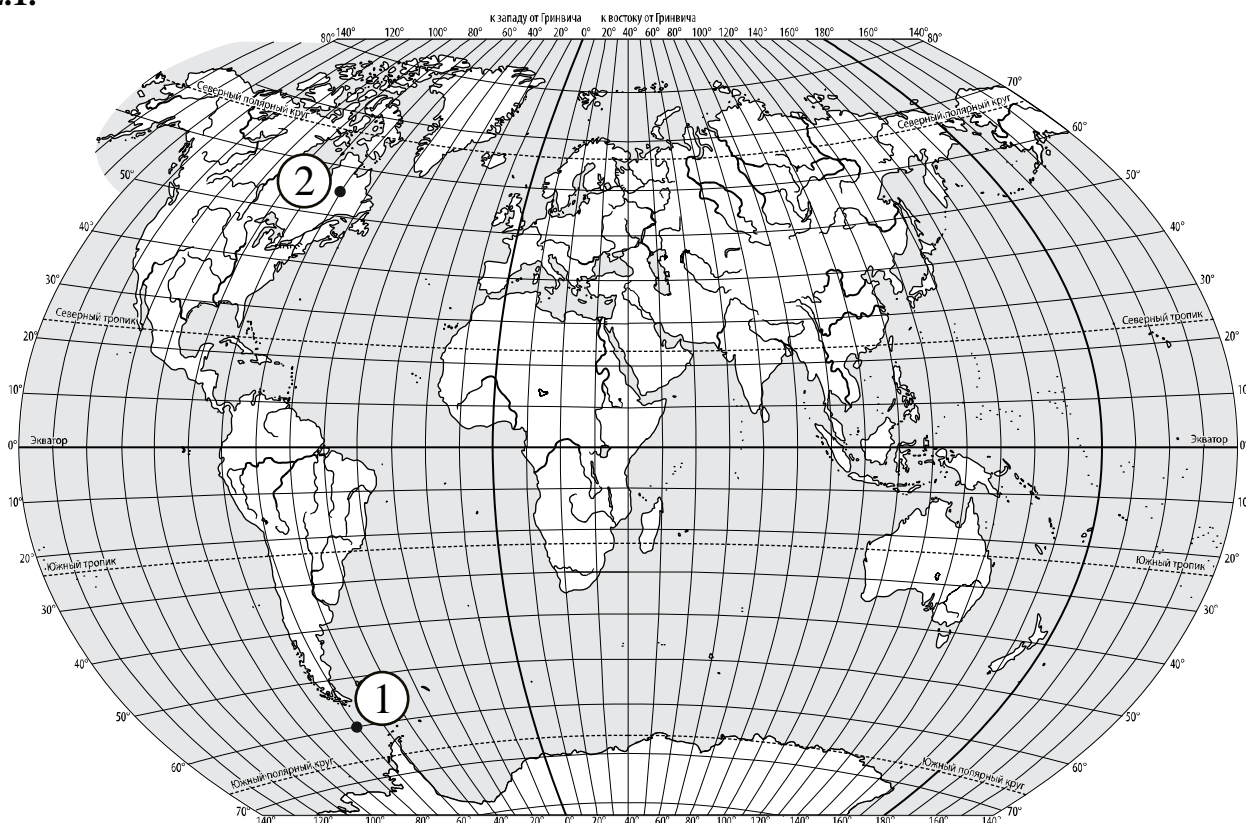
2.2. Точка 1 расположена на территории крупного географического объекта. Прочитайте текст, рассмотрите фотографию и космический снимок и укажите название этого географического объекта.

Самый широкий и самый глубокий пролив на нашей планете. Его ширина в узкой части составляет 820 км, а глубина доходит до 5 км. Он назван в честь знаменитого английского мореплавателя, командира второй (после экспедиции Ф. Магеллана) кругосветной морской экспедиции. Пролив соединяет Тихий и Атлантический океаны и разделяет Южную Америку и Антарктиду. С севера границы пролива очерчены архипелагом Огненная Земля, а с юга – Антарктическим полуостровом. Это место моряки прозвали «Неистовые пятидесятые» из-за постоянно дующих ветров, сильнейших штормов и многочисленных айсбергов. Пролив и прилегающие к нему районы изобилуют жизнью. Здесь много пингвинов, синих китов и тюленей.



Ответ. _____

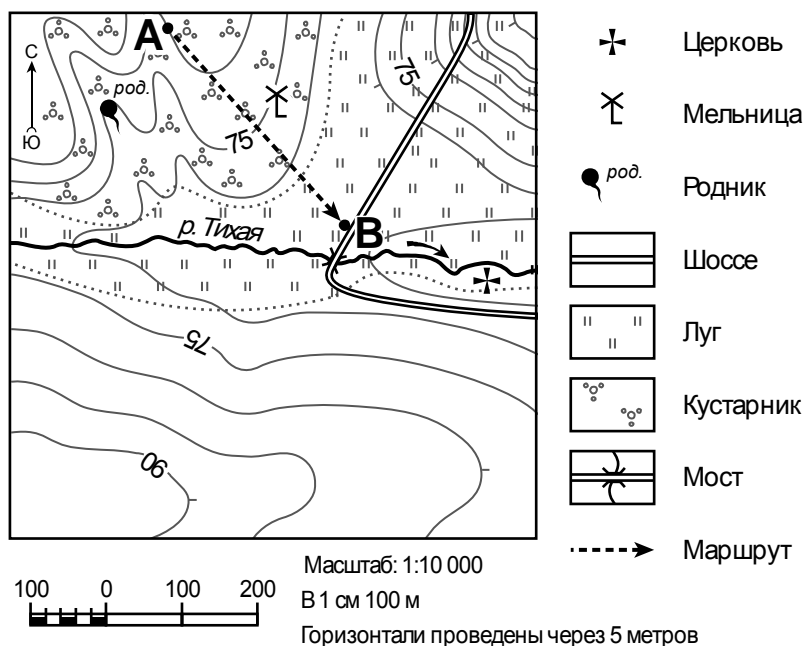
2.1.



Содержание верного ответа, критерии и указания по оцениванию		Баллы
К1	Отметка двух точек на карте	1
	Две точки на карте отмечены правильно. <i>Допускается погрешность $\pm 1^\circ$</i>	1
	На карте правильно отмечена только одна точка. ИЛИ Точки не отмечены / отмечены неправильно	0
	Если по критерию К1 выставлен 0 баллов, то по критерию К2 выставляется 0 баллов	
К2	Указание направления	1
	Направление указано правильно: в северном направлении / на север	1
	Направление не указано / указано неправильно	0
<i>Максимальный балл</i>		2

2.2	пролив Дрейка
------------	---------------

3



3.1. На каком берегу реки Тихой находится мельница?

Ответ. _____

□

В каком направлении от мельницы расположен родник?

Ответ. _____

□

3.2. Какова протяжённость проложенного на карте маршрута А–В? Для выполнения задания используйте линейку. Расстояние измеряйте по центрам точек.

Ответ. _____

3.3. Какой из изображённых на фотографиях объектов может быть сооружён на участке, показанном на карте точкой В? Запишите в ответе **номер** фотографии. Обоснуйте свой ответ.



1 – автобусная остановка



2 – пляж

□

Ответ. Объект: _____

3.1.

Содержание верного ответа и указания по оцениванию	Баллы
Правильный ответ должен содержать <u>ответы на два вопроса</u> : 1) на левом берегу; 2) в западном направлении / на запад	
Правильно даны ответы на два вопроса	2
Правильно дан ответ только на один любой вопрос	1
Ответы на вопросы не даны / даны неправильно	0
<i>Максимальный балл</i>	2

3.2	350 метров (допускается погрешность ± 10 метров)
------------	---


3.3.

Содержание верного ответа и указания по оцениванию	Баллы
Правильный ответ должен содержать следующие <u>элементы</u> : 1) <u>указание объекта</u> : 1 – автобусная остановка; 2) <u>объяснение</u> , например: Точка В расположена на обочине шоссе, где удобно построить автобусную остановку, а пляж должен находиться на пологом берегу реки. <i>Объяснение может быть приведено в иной, близкой по смыслу формулировке</i>	
Правильно указан объект, дано объяснение	2
Правильно указан только объект	1
Объект указан неправильно независимо от наличия/отсутствия объяснения. ИЛИ Ответ неправильный	0
<i>Максимальный балл</i>	2


4

4.1. Разница во времени между городами Владимиром и Туруханском составляет **+4 часа**. На рисунках представлены показания часов в этих городах в тот момент, когда в Владимире **полдень**. Запишите под каждым рисунком, как отображается то же самое время на электронных часах в этих городах.

ВЛАДИМИР



ТУРУХАНСК



4.2. Никита живёт во Владимире. Урок по какому предмету у Никиты в школе в указанное Вами время? Используйте для ответа приведённое расписание уроков.

Ответ. _____

4.3. Урок по какому предмету в это время у его сверстницы Юли, которая живёт в Туруханске, если у неё такое же расписание уроков, что и у Никиты?

Ответ. _____

Обоснуйте свой ответ и укажите, чем обусловлена разница во времени в разных частях Земли.

Ответ. _____

РАСПИСАНИЕ УРОКОВ

№ урока	Время	Предмет
1 смена		
1	8.25 – 9.05	География
2	9.15 – 9.55	Математика
3	10.15 – 10.55	Музыка
4	11.25 – 12.05	Русский язык
5	12.20 – 13.00	История
6	13.10 – 14.10	Работа по проекту
2 смена		
1	13.30 – 14.10	Математика
2	14.30 – 15.10	Информатика
3	15.30 – 16.10	Физкультура
4	16.25 – 17.15	Биология
5	17.20 – 18.00	Русский язык

4.1	12.00; 16.00
4.2	У Никиты урок по русскому языку (1 смена)

4.3

Содержание верного ответа и указания по оцениванию	Баллы
<p>Правильный ответ должен содержать следующие элементы:</p> <p>1) <u>ответ на вопрос</u>: У Юли урок по физкультуре (2 смена);</p> <p>2) <u>обоснование</u>: когда во Владимире 12 часов, в Туруханске уже 16 часов, поэтому, когда у Никиты урок по русскому языку (1 смена), у Юли урок по физкультуре (2 смена);</p> <p>3) <u>указание того, чем обусловлена разница во времени</u>, например: разница во времени обусловлена вращением Земли вокруг своей оси. <i>Обоснование и/или указание может быть приведено в иной, близкой по смыслу формулировке</i></p>	
Правильно дан ответ на вопрос, представлены обоснование и указание	3
Правильно даны ответ на вопрос и обоснование, указание не дано / дано неправильно. ИЛИ Правильно даны ответ на вопрос и указание, обоснование не дано / дано неправильно	2
Правильно дан только ответ на вопрос.	1
Ответ на вопрос не дан / дан неправильно независимо от наличия/отсутствия других элементов ответа. ИЛИ Ответ неправильный	0
<i>Максимальный балл</i>	3

5

5.1. Установите соответствие между географическими особенностями и природными зонами, для которых они характерны: для этого к каждой позиции первого столбца подберите соответствующую позицию из второго столбца.

ГЕОГРАФИЧЕСКИЕ ОСОБЕННОСТИ

ПРИРОДНЫЕ ЗОНЫ

- | | |
|---|---|
| <p>А) занимают территории с достаточным увлажнением в пределах умеренного пояса</p> <p>Б) местообитание благородного оленя, кабана, косули, лани</p> <p>В) местообитание многих видов пресмыкающихся: змей, ящериц, черепах</p> <p>Г) тёплое продолжительное лето и умеренно холодная зима</p> <p>Д) занимают территории в пределах тропического пояса Северного и Южного полушарий</p> <p>Е) много пересыхающих рек и озёр</p> | <p>1) широколиственные леса</p> <p>2) пустыни</p> |
|---|---|

Запишите в таблицу выбранные цифры под соответствующими буквами.



Ответ.

А	Б	В	Г	Д	Е

5.2. Определите, в какой из указанных природных зон могла быть сделана каждая фотография. Подпишите названия природных зон.



А – _____

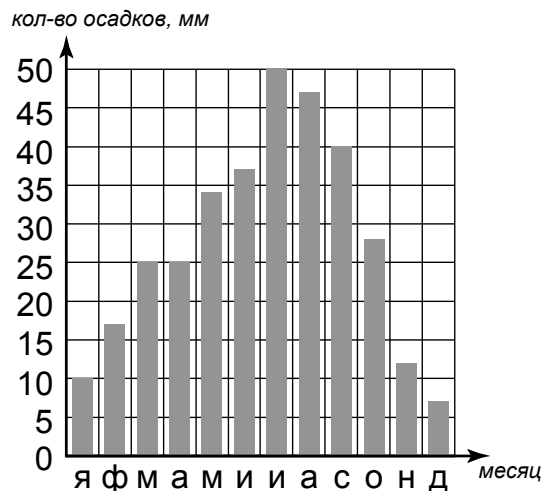
Б – _____



5.1	112122
5.2	А – широколиственные леса Б – пустыни

6

На метеорологической станции города N в течение года наблюдали за количеством осадков. По результатам наблюдений метеорологи построили диаграмму выпадения осадков по месяцам. Рассмотрите диаграмму выпадения осадков и ответьте на вопросы.



6.1. В каком месяце выпало больше всего осадков?

Ответ. _____

На какие три месяца приходилось наименьшее количество осадков?

Ответ. _____

6.2. На каком рисунке знаками отображена погода в тот день, когда выпал снег? Укажите букву, которой обозначен этот рисунок. Составьте описание погоды в этот день.

А				+22 °C	58%
Б				+12 °C	65%
В				-9 °C	84%

Ответ. Рисунок: _____

6.1.

Содержание верного ответа и указания по оцениванию	Баллы
Правильный ответ должен содержать <u>ответы на два вопроса</u> : 1) в июле; 2) январь, ноябрь, декабрь	
Правильно даны ответы на два вопроса	2
Правильно дан ответ только на один любой вопрос	1
Ответы на вопросы не даны / ответы на два вопроса даны неправильно	0
<i>Максимальный балл</i>	2

6.2.

	Содержание верного ответа, критерии и указания по оцениванию	Баллы
K1	Указание рисунка	1
	Правильно указан рисунок: В	1
	Рисунок не указан / указан неправильно	0
	<i>Если по критерию K1 выставлен 0 баллов, то по критерию K2 выставляется 0 баллов</i>	
K2	Описание погоды	2
	Правильно представлено описание погоды с учётом всех показателей, отображённых на рисунке знаками, например: в этот день была сплошная облачность, шёл снег, дул западный ветер, температура воздуха была минус 9 градусов, влажность воздуха – 84%. Описание может быть приведено в иной, близкой по смыслу формулировке	2
	При описании погоды с учётом показателей, отображённых на рисунке знаками, допущена одна ошибка / не учтён любой один из показателей	1
	В описании погоды допущено две или более ошибки. ИЛИ В описании погоды не учтены два или более показателя. ИЛИ Описание погоды не представлено	0
	<i>Максимальный балл</i>	3

8

8.1. Используя приведённую ниже таблицу, выполните задания.

Площадь территории, численность и плотность населения, 2016 г.

№	Страна	Площадь территории, тыс. км ²	Численность населения, млн человек	Плотность населения, чел./км ²
1	Германия	357	81	227
2	Греция	132	11	83
3	Перу	1285	32	25
4	Италия	301	61	203

Расположите страны в порядке **увеличения** площади территории, начиная со страны с самой маленькой территорией. Запишите в ответе последовательность порядковых номеров этих стран.

Ответ. _____

В какой стране наименьшая численность населения? Запишите в ответе название страны.

Ответ. _____

В каких странах плотность населения более 200 чел./км²? Запишите в ответе названия стран.

Ответ. _____

8.2. Фотографии, представленные ниже, сделаны в странах, указанных в таблице. Запишите под каждой фотографией название соответствующей **страны**.



А – _____



Б – _____



В – _____



Г – _____

8.1

Содержание верного ответа и указания по оцениванию	Баллы
Правильный ответ должен содержать следующие <u>элементы</u> : 1) <u>последовательность номеров стран</u> : 2413; 2) <u>ответ на первый вопрос</u> : в Греции; 3) <u>ответ на второй вопрос</u> : в Германии и Италии	
Правильно указана последовательность номеров стран и даны ответы на два вопроса	2
Правильно указана последовательность номеров стран и дан ответ на один любой вопрос. ИЛИ Правильно даны только ответы на два вопроса	1
Правильно указана только последовательность номеров стран. ИЛИ Правильно дан ответ только на один любой вопрос. ИЛИ Ответ неправильный	0
<i>Максимальный балл</i>	2

8.2	А – Греция Б – Перу В – Италия Г – Германия
------------	--

9

Рассмотрите фотографию с изображением опасного явления природы. Запишите его название.



Ответ. Природное явление – _____

Составьте краткое описание этого природного явления (объёмом до пяти предложений). Поясните, чем опасно это явление для людей.

Ответ. _____

Содержание верного ответа и указания к оцениванию		Баллы
К1	Указание опасного явления природы	1
	Правильно определено опасное явление природы: <u>гроза/молния</u> . <i>При оценивании как правильный ответ засчитывается любое допустимое название данного явления</i>	1
	Опасное явление природы не определено / определено неправильно	0
	<i>Если по критерию К1 выставлен 0 баллов, то по всем остальным критериям оценивания выставляется 0 баллов</i>	
К2	Описание этого природного явления	1
	<i>При оценивании в качестве правильного может быть принято описание природного явления в любом объёме</i>	
	Описание содержит основные сведения о природном явлении. Фактических ошибок нет	1
	В описании допущены фактические ошибки. ИЛИ Приведены рассуждения общего характера, не содержащие сведений о природном явлении. ИЛИ Описание не представлено	0
К3	Пояснение, чем опасно это явление для людей	1
	Правильно пояснено, чем опасно это явление для людей	1
	Пояснение о том, чем опасно это явление для людей, отсутствует. ИЛИ Ответ неправильный	0
	<i>Максимальный балл</i>	

10

10.1. Запишите название региона: республики, или области, или края, или автономного округа, или города федерального значения, в котором Вы живёте.

Ответ. _____

Как называется главный город Вашего региона? / Как называется населённый пункт / округ / муниципальный район города, в котором Вы живёте / расположена Ваша школа?

Ответ. _____

10.2. Какие реки протекают по территории Вашего региона? Составьте краткое описание одной из этих рек.

Ответ. _____

10.1.

Указания к оцениванию		Баллы
Правильно указаны название региона и его главный город / населённый пункт / округ / муниципальный район города		1
Правильно указано только название региона. ИЛИ Правильно указан только главный город региона / населённый пункт / округ / муниципальный район города. ИЛИ Ответ неправильный		0
<i>Максимальный балл</i>		<i>1</i>

10.2.

Критерии и указания к оцениванию		Баллы
K1	Указание рек, протекающих по территории региона	1
	Правильно указаны реки, протекающие по территории региона. <i>При оценивании как правильный ответ засчитывается указание любого количества объектов (одного и более)</i>	1
	Реки, протекающие по территории региона, не указаны / указаны неправильно	0
	<i>Если по критерию K1 выставлен 0 баллов, то по критерию K2 выставляется 0 баллов</i>	
K2	Описание одной из рек	2
	Описание содержит основные географические сведения о реке. Фактических ошибок нет	2
	Описание содержит основные географические сведения о реке. Допущено не более двух фактических ошибок	1
	Приведены сведения, не соответствующие требованию задания	0
<i>Максимальный балл</i>		<i>3</i>

Система оценивания выполнения всей работы

Максимальный балл за выполнение работы – **37**.

Рекомендации по переводу первичных баллов в отметки по пятибалльной шкале

Отметка по пятибалльной шкале	«2»	«3»	«4»	«5»
Первичные баллы	0–9	10–21	22–30	31–37