

**Проверочная работа  
по ГЕОГРАФИИ**

**7 класс (по программе 6 класса)**

**Вариант 2**

**Инструкция по выполнению работы**


На выполнение работы по географии даётся 60 минут. Работа включает в себя 10 заданий.

Ответы на задания запишите в поля ответов в тексте работы. В случае записи неверного ответа зачеркните его и запишите рядом новый.

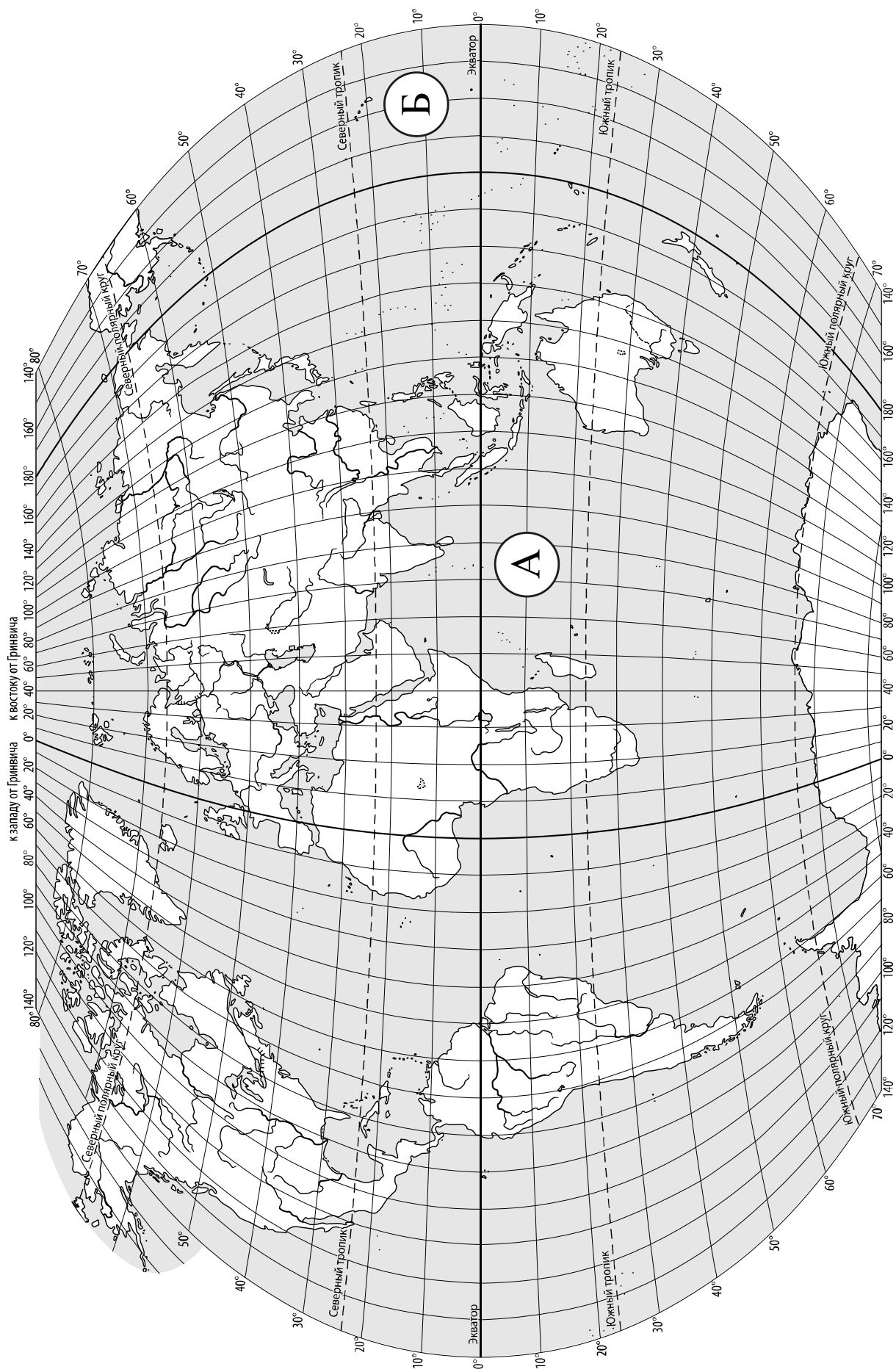
При выполнении работы не разрешается пользоваться учебником, рабочими тетрадями, атласом и другим справочным материалом.

При необходимости можно пользоваться черновиком. Записи в черновике проверяться и оцениваться не будут. Для выполнения заданий с использованием карт Вам потребуются линейка и карандаш.

Советуем выполнять задания в том порядке, в котором они даны. В целях экономии времени пропускайте задание, которое не удаётся выполнить сразу, и переходите к следующему. Если после выполнения всей работы у Вас останется время, то Вы сможете вернуться к пропущенным заданиям.

Значком  отмечены задания, ответы на которые записываются на карте, приведённой на странице 2.

*Желаем успеха!*



**Задание 1 выполняется с использованием карты мира, приведённой на странице 2.**

1 Рассмотрите карту мира. На ней буквами А и Б отмечены два океана.

1.1. Запишите названия океанов в соответствующее поле.

Название океана (А) :

Название океана (Б) :

\_\_\_\_\_

1.2. С каким из названных Вами океанов, которому Фернан Магеллан дал название во время своего кругосветного плавания, связаны открытия путешественников и исследователей, изображённых на портретах? Укажите название океана.



*Фернан Магеллан*



*Витус Беринг*

Ответ: \_\_\_\_\_



Подпишите на карте материка, берега которых омывают воды указанного Вами океана.



**Задание 2 выполняется с использованием карты мира, приведённой на странице 2.**

2

2.1. Поставьте точки на карте по приведённым ниже координатам. Обозначьте эти точки соответственно цифрами 1 и 2.



Точка 1 –  $26^{\circ}$  с. ш.  $52^{\circ}$  в. д.



Точка 2 –  $26^{\circ}$  с. ш.  $10^{\circ}$  в. д.

В каком направлении от точки 1 расположена точка 2?



Ответ. \_\_\_\_\_

2.2. Точка 2 расположена на территории крупного географического объекта. Прочитайте текст, рассмотрите фотографию и укажите название этого географического объекта.

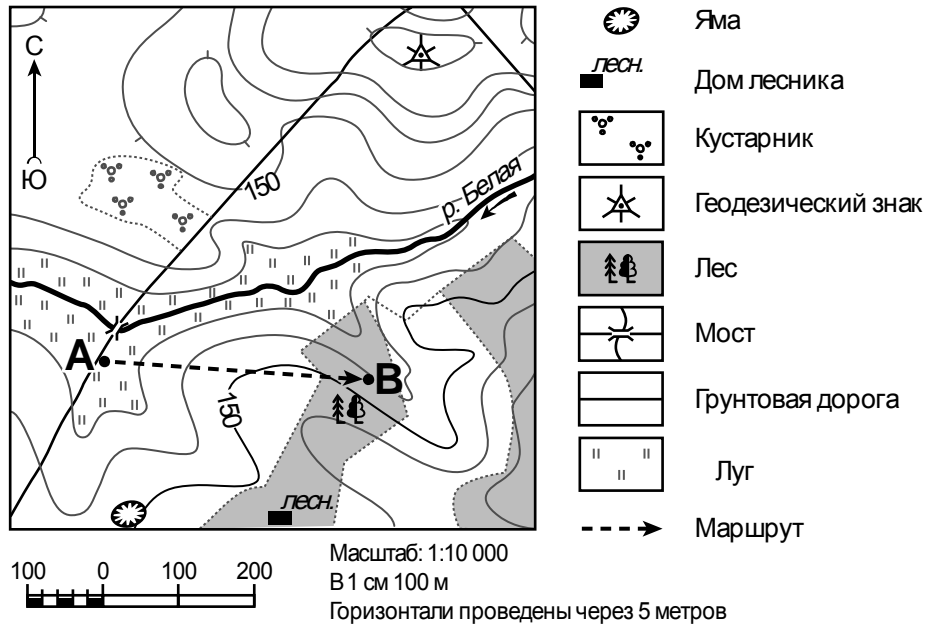
Самая большая по площади пустыня нашей планеты. Она расположена в северной части Африки и охватывает территории более 10 стран, в том числе Египта, Алжира, Туниса. Пески занимают примерно четверть площади пустыни, на остальной её части преобладает каменистый грунт. Пустыню пересекает одна из самых крупных рек мира – Нил. В долине Нила и оазисах встречаются плодородные земли. Сухие русла небольших рек – вадии заполняются водой лишь на короткое время после редких дождей.



Ответ. \_\_\_\_\_

**Задание 3** выполняется с использованием приведённого ниже фрагмента топографической карты.

3



3.1. На каком берегу реки Белой находится дом лесника?

Ответ. \_\_\_\_\_

□

В каком направлении от моста расположен геодезический знак?

Ответ. \_\_\_\_\_

□

3.2. Какова протяжённость проложенного на карте маршрута А–В? Для выполнения задания используйте линейку. Расстояние измеряйте по центрам точек.

Ответ. \_\_\_\_\_

3.3. Какой из изображённых на фотографиях объектов может быть сооружён на участке, показанном на карте точкой А? Запишите в ответе **номер** фотографии. Обоснуйте свой ответ.



1 – автобусная остановка



2 – лыжный спуск

□

Ответ. Объект: \_\_\_\_\_


\_\_\_\_\_

\_\_\_\_\_

4


4.1. Разница во времени между городами Курском и Улан-Удэ **+5 часов**. На рисунках представлены показания часов в этих городах в тот момент, когда в Курске **10 часов утра**. Запишите под каждым рисунком, как отображается то же самое время на электронных часах в этих городах.

**КУРСК**



\_\_\_\_\_

**УЛАН-УДЭ**



\_\_\_\_\_

4.2. Алексей живёт в Курске. Что он делает в указанное Вами время? Используйте для ответа приведённый режим дня школьника.

Ответ. \_\_\_\_\_

4.3. Что в это же время делает его сверстник Дмитрий, который живёт в Улан-Удэ, если он соблюдает тот же режим дня, что и Алексей?

Ответ. \_\_\_\_\_

Обоснуйте свой ответ и укажите, чем обусловлена разница во времени в разных частях Земли.

Ответ. \_\_\_\_\_

**РЕЖИМ ДНЯ ШКОЛЬНИКА**

<b>7.00</b>	<i>Подъём</i>
<b>7.05 – 7.20</b>	<i>Утренняя зарядка</i>
<b>7.20 – 7.30</b>	<i>Гигиенические процедуры</i>
<b>7.30 – 8.00</b>	<i>Завтрак</i>
<b>8.00 – 8.15</b>	<i>Дорога в школу</i>
<b>8.30 – 13.10</b>	<i>Уроки в школе</i>
<b>13.15 – 13.30</b>	<i>Дорога домой</i>
<b>13.45 – 14.15</b>	<i>Обед</i>
<b>14.15 – 16.15</b>	<i>Занятия в кружках/секциях</i>
<b>16.30 – 16.45</b>	<i>Полдник</i>
<b>16.45 – 18.15</b>	<i>Выполнение домашних заданий</i>
<b>18.15 – 19.15</b>	<i>Прогулка на свежем воздухе</i>
<b>19.30 – 20.00</b>	<i>Ужин</i>
<b>20.00 – 21.30</b>	<i>Свободное время (чтение книг, просмотр телепередач, настольные игры)</i>
<b>21.30 – 22.00</b>	<i>Гигиенические процедуры и подготовка ко сну</i>
<b>22.00 – 7.00</b>	<i>Ночной сон</i>

5

5.1. Установите соответствие между географическими особенностями и природными зонами, для которых они характерны: для этого к каждой позиции первого столбца подберите соответствующую позицию из второго столбца.

**ГЕОГРАФИЧЕСКИЕ ОСОБЕННОСТИ**

**ПРИРОДНЫЕ ЗОНЫ**

- |  |                                   |
|--|-----------------------------------|
| <p>А) преобладание подзолистых почв</p> <p>Б) распространение колючих кустарников</p> <p>В) много пересыхающих озёр и рек</p> <p>Г) местообитание глухаря, рябчика, кедровки, дятла</p> <p>Д) песчаные формы рельефа: барханы, дюны</p> <p>Е) прохладное короткое лето и продолжительная холодная зима</p> | <p>1) тайга</p> <p>2) пустыня</p> |
|--|-----------------------------------|

Запишите в таблицу выбранные цифры под соответствующими буквами.

Ответ:

А	Б	В	Г	Д	Е

5.2. Определите, в какой из указанных природных зон могла быть сделана каждая фотография. Подпишите названия природных зон.

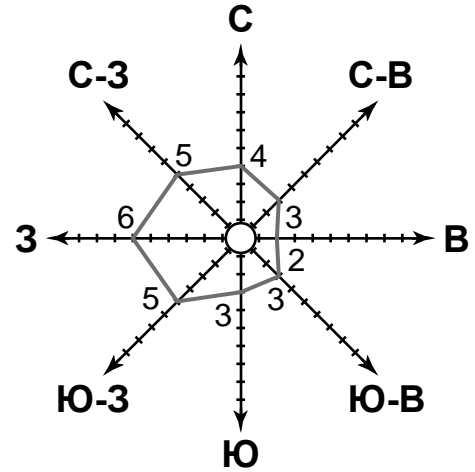


А – \_\_\_\_\_

Б – \_\_\_\_\_

6

На метеорологической станции города N в январе были проведены наблюдения за направлением ветра. По результатам наблюдений метеорологи построили розу ветров. Рассмотрите розу ветров и ответьте на вопросы.



6.1. Какой ветер чаще всего дул в январе?

Ответ. \_\_\_\_\_

В каком направлении дует этот ветер?

Ответ. \_\_\_\_\_

6.2. На каком рисунке знаками отображена погода в тот день, когда влажность воздуха **не превышала** 65%? Укажите букву, которой обозначен этот рисунок. Составьте описание погоды в этот день.

А				-3 °C	66%
Б				+3 °C	77%
В				-10 °C	63%

Ответ. Рисунок: \_\_\_\_\_

---



---



---



---

7

Прочитайте текст и выполните задание.

- (1) Биосфера – это всё пространство, где существует или когда-либо существовала жизнь.
- (2) Она охватывает нижние слои атмосферы, всю гидросферу и верхнюю часть литосферы.
- (3) Процессы, протекающие в биосфере, влияют на другие оболочки нашей планеты.
- (4) Живые организмы способствуют естественному очищению гидросферы, участвуют в формировании почвы, а из останков организмов формируются горные породы.
- (5) В Мировом океане живые организмы поддерживают солевой состав воды.
- (6) В процессе фотосинтеза ежегодно поглощается 170 млрд тонн углекислого газа, а запасы кислорода постоянно пополняются.

По каким предложениям можно сделать вывод о значении биосферы? Запишите номера предложений.

Ответ. \_\_\_\_\_



8

8.1. Используя приведённую ниже таблицу, выполните задания.

**Численность и доля занятого населения, 2016 г.**

№	Страна	Численность занятого населения, млн человек	Доля занятого населения, %		
			в сельском хозяйстве	в промышленности	в сфере услуг
1	Австралия	13	4	21	75
2	Германия	46	2	23	75
3	Россия	76	9	28	63
4	США	160	1	20	79

Расположите страны в порядке **увеличения** численности занятого населения, начиная со страны с самой маленькой численностью занятого населения. Запишите в ответе последовательность порядковых номеров этих стран.

Ответ. \_\_\_\_\_

В какой стране доля населения, занятого в промышленности, наибольшая? Запишите в ответе название страны.

Ответ. \_\_\_\_\_

В каких странах доля населения, занятого в сфере услуг, одинакова? Запишите в ответе названия стран.

Ответ. \_\_\_\_\_

8.2. На фотографиях изображены крупнейшие города и культурно-исторические достопримечательности стран, указанных в таблице. Запишите под каждой фотографией название соответствующей **страны**.



А – \_\_\_\_\_



Б – \_\_\_\_\_



В – \_\_\_\_\_



Г – \_\_\_\_\_

9

Рассмотрите фотографию с изображением опасного явления природы. Запишите его название.



Ответ. Природное явление – \_\_\_\_\_

Составьте краткое описание этого природного явления (объёмом до пяти предложений). Поясните, чем опасно это явление для людей.

Ответ. \_\_\_\_\_

\_\_\_\_\_

\_\_\_\_\_

\_\_\_\_\_

\_\_\_\_\_

\_\_\_\_\_

\_\_\_\_\_

\_\_\_\_\_

10

10.1. Запишите название региона: республики, или области, или края, или автономного округа или города федерального значения, в котором Вы живёте.

Ответ: \_\_\_\_\_

Как называется главный город Вашего региона? / Как называется населённый пункт / округ / муниципальный район города, в котором Вы живёте / расположена Ваша школа?

Ответ: \_\_\_\_\_

10.2. Какие источники загрязнения природы есть на территории Вашего региона? Опишите воздействие одного из этих источников загрязнения на природу.

Ответ. \_\_\_\_\_

\_\_\_\_\_

\_\_\_\_\_

\_\_\_\_\_

\_\_\_\_\_

\_\_\_\_\_

\_\_\_\_\_

\_\_\_\_\_